

Приложение 4 Фонд оценочных средств учебных дисциплин
к ОПОП по специальности
10.02.05 Обеспечение информационной безопасности
автоматизированных систем

ФОНД ОЦЕНОЧНЫХ СРЕДСТВ
ОБП.04 МАТЕМАТИКА

для специальности
среднего профессионального образования

10.02.05 Обеспечение информационной безопасности автоматизированных систем

Регистрационный №21ИБ/04фос

Санкт-Петербург
2021

Фонд оценочных средств учебного предмета ОБП.04 Математика разработан на основе Федерального государственного образовательного стандарта по специальности среднего профессионального образования 10.02.05 Обеспечение информационной безопасности автоматизированных систем, утвержденного приказом Минобрнауки России от 09.12.2016 №1553, зарегистрировано Минюсте России (рег. №44967 от 26.12.2016), с учетом Федерального государственного образовательного стандарта среднего общего образования, утвержденного Приказом Минобрнауки России от 17.05.2012 №413

Организация-разработчик:

Санкт-Петербургское государственное бюджетное профессиональное образовательное учреждение «Академия промышленных технологий» (СПб ГБПОУ «АПТ»)

Разработчики:

Преподаватели СПб ГБПОУ «АПТ»

Фонд оценочных средств рассмотрен учебной цикловой комиссией естественнонаучных и общеобразовательных дисциплин

Фонд оценочных средств соответствует требованиям к содержанию, структуре, оформлению. Протокол №10 от 24.06.2021 г.

Председатель УЦК – Е.А. Рахаева

СОДЕРЖАНИЕ

1. Результаты обучения, регламентированные ФГОС СОО с учетом ФГОС СПО
2. Фонд оценочных средств для входного контроля
3. Фонд оценочных средств для текущего контроля
4. Фонды оценочных средств для рубежного контроля (по итогам 3.1 – 3.3)
5. Фонд оценочных средств для промежуточной аттестации

Результаты обучения, регламентированные ФГОС СОО с учетом ФГОС СПО

Предметные результаты на базовом уровне отражают:

ДРБ 01. Владение методами доказательств, алгоритмами решения задач; умение формулировать определения, аксиомы и теоремы, применять их, проводить доказательные рассуждения в ходе решения задач;

ДРБ 02. Умение оперировать понятиями: степень числа, логарифм числа; умение выполнять вычисление значений и преобразования выражений со степенями и логарифмами, преобразования дробно-рациональных выражений;

ДРБ 03. Умение оперировать понятиями: рациональные, иррациональные, показательные, степенные, логарифмические, тригонометрические уравнения и неравенства, их системы;

ДРБ 04. Умение оперировать понятиями: функция, непрерывная функция, производная, первообразная, определенный интеграл; умение находить производные элементарных функций, используя справочные материалы; исследовать в простейших случаях функции на монотонность, находить наибольшие и наименьшие значения функций; строить графики многочленов с использованием аппарата математического анализа; применять производную при решении задач на движение; решать практико-ориентированные задачи на наибольшие и наименьшие значения, на нахождение пути, скорости и ускорения;

ДРБ 05. Умение оперировать понятиями: рациональная функция, показательная функция, степенная функция, логарифмическая функция, тригонометрические функции, обратные функции; умение строить графики изученных функций, использовать графики при изучении процессов и зависимостей, при решении задач из других учебных предметов и задач из реальной жизни; выражать формулами зависимости между величинами;

ДРБ 06. Умение решать текстовые задачи разных типов (в том числе на проценты, доли и части, на движение, работу, стоимость товаров и услуг, налоги, задачи из области управления личными и семейными финансами); составлять выражения, уравнения, неравенства и их системы по условию задачи, исследовать полученное решение и оценивать правдоподобность результатов;

ДРБ 07. Умение оперировать понятиями: среднее арифметическое, медиана, наибольшее и наименьшее значения, размах, дисперсия, стандартное отклонение числового набора; умение извлекать, интерпретировать информацию, представленную в таблицах, на диаграммах, графиках, отражающую свойства реальных процессов и явлений; представлять информацию с помощью таблиц и диаграмм; исследовать статистические данные, в том числе с применением графических методов и электронных средств;

ДРБ 08. Умение оперировать понятиями: случайный опыт и случайное событие, вероятность случайного события; умение вычислять вероятность с использованием графических методов; применять формулы сложения и умножения вероятностей, комбинаторные факты и формулы при решении задач; оценивать вероятности реальных событий; знакомство со случайными величинами; умение приводить примеры проявления закона больших чисел в природных и общественных явлениях;

ДРБ 09. Умение оперировать понятиями: точка, прямая, плоскость, пространство, двугранный угол, скрещивающиеся прямые, параллельность и перпендикулярность прямых и плоскостей, угол между прямыми, угол между прямой и плоскостью, угол между плоскостями, расстояние от точки до плоскости, расстояние между прямыми, расстояние между плоскостями; умение использовать при решении задач изученные факты и теоремы планиметрии; умение оценивать размеры объектов окружающего мира;

ДРБ 10. Умение оперировать понятиями: многогранник, сечение многогранника, куб, параллелепипед, призма, пирамида, фигура и поверхность вращения, цилиндр, конус, шар, сфера, сечения фигуры вращения, плоскость, касающаяся сферы, цилиндра, конуса, площадь поверхности пирамиды, призмы, конуса, цилиндра, площадь сферы, объем куба, прямоугольного параллелепипеда, пирамиды, призмы, цилиндра, конуса, шара; умение изображать многогранники и поверхности вращения, их сечения от руки, с помощью чертежных инструментов и электронных средств; умение распознавать симметрию в пространстве; умение распознавать правильные многогранники;

ДРБ 11. Умение оперировать понятиями: движение в пространстве, подобные фигуры в пространстве; использовать отношение площадей поверхностей и объемов подобных фигур при решении задач;

ДРБ 12. Умение вычислять геометрические величины (длина, угол, площадь, объем, площадь

поверхности), используя изученные формулы и методы;

ДР6 13. Умение оперировать понятиями: прямоугольная система координат, координаты точки, вектор, координаты вектора, скалярное произведение, угол между векторами, сумма векторов, произведение вектора на число; находить с помощью изученных формул координаты середины отрезка, расстояние между двумя точками;

ДР6 14. Умение выбирать подходящий изученный метод для решения задачи, распознавать математические факты и математические модели в природных и общественных явлениях, в искусстве; умение приводить примеры математических открытий российской и мировой математической науки.

ОК 01. Выбирать способы решения задач профессиональной деятельности, применительно к различным контекстам.

ОК 02. Осуществлять поиск, анализ и интерпретацию информации, необходимой для выполнения задач профессиональной деятельности.

ОК 03. Планировать и реализовывать собственное профессиональное и личностное развитие.

ОК 04. Работать в коллективе и команде, эффективно взаимодействовать с коллегами, руководством, клиентами.

ОК 05. Осуществлять устную и письменную коммуникацию на государственном языке с учетом особенностей социального и культурного контекста.

ОК 06. Проявлять гражданско-патриотическую позицию, демонстрировать осознанное поведение на основе традиционных общечеловеческих ценностей, применять стандарты антикоррупционного поведения.

(в ред. Приказа Минпросвещения России от 17.12.2020 N 747)

ОК 07. Содействовать сохранению окружающей среды, ресурсосбережению, эффективно действовать в чрезвычайных ситуациях.

Фонд оценочных средств для входного контроля

Входной контроль состоит из заданий, взятых из открытого банка ОГЭ и ВПР по математике. На выполнение заданий входного контроля дается 1 академический час (45 минут).

Входной контроль состоит из 2-х частей: обязательной и дополнительной. Обязательная часть содержит задания минимального обязательного уровня, дополнительная часть – более сложные задания.

При выполнении заданий требуется представить ход решения и указать полученный ответ. Правильно выполненное задание из обязательной части оценивается в один балл; правильное выполнение заданий дополнительной части оценивается 3 баллами или 1-2 баллами за частичное решение.

Баллы, полученные за все выполненные задания, суммируются.

Шкала перевода баллов в отметки по пятибалльной системе

Отметка	Число баллов, необходимое для получения отметки
«3» (удов.)	7-9
«4» (хорошо)	10-12
«5» (отлично)	13-15

Образовательные результаты, подлежащие проверке (элементы):

ДР6 1, ДР6 5, ДР6 6, ДР6 9, ДР6 12, ДР6 14.

ОК 1, ОК 2, ОК 5, ОК 6.

ПК 1.1. ПК 1.2

Задания входного контроля

Обязательная часть

При решении заданий 1-4 запишите правильный ответ из четырех предложенных:

1. (1 балл) Раскройте формулу сокращенного умножения $a^2 - b^2$: А) $a^2 - 2ab + b^2$; Б) $(a-b)(a+b)$; В) $a^2 + 2ab - b^2$; Г) $(a-b)(a-b)$

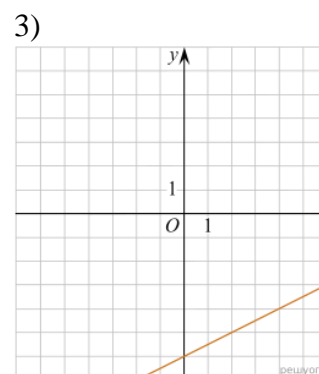
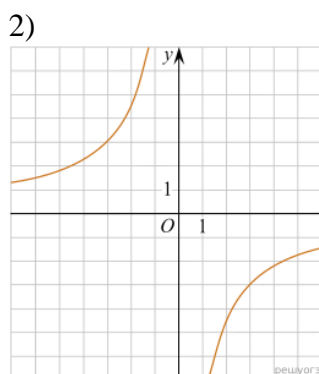
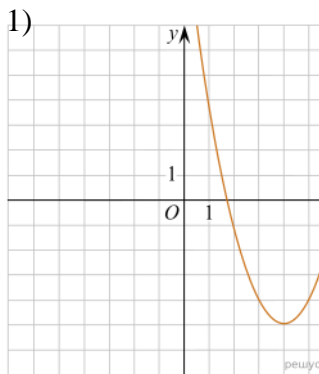
2. (1 балл) Площадь треугольника вычисляется по формуле: А) $S = a \cdot b$; Б) $S = (a \cdot b) / 2$; В) $S = 2a \cdot b$; Г) $S = (a \cdot b) / 3$.

3. (1 балл) Какое из следующих чисел заключено между числами

$$\frac{10}{17} \text{ и } \frac{5}{8}?$$

А) 0,4; Б) 0,5; В) 0,6; Г) 0,7

4. (1 балл) Даны графики функций. Какая формула соответствует графику 3):



А) $y = \frac{1}{2}x - 6$; Б) $y = x^2 - 8x + 11$; В) $y = -\frac{9}{x}$; Г) $y = x + 5$.

При выполнении заданий 5-8 запишите ход решения и полученный ответ.

5. (2 балла) Вычислите: $\frac{1}{2} + \frac{11}{5}$.

6. (2 балла) Решите уравнение $x^2 - 7x + 10 = 0$. Если уравнение имеет более одного корня, в ответ запишите меньший из корней.

7. (2 балла) Для ремонта требуется 57 рулонов обоев. Какое наименьшее количество пачек обойного клея нужно для такого ремонта, если 1 пачка клея рассчитана на 5 рулонов?

8. (2 балла) Высота ВН параллелограмма ABCD делит его сторону AD на отрезки $АН = 2$ и $НD = 32$. Диагональ параллелограмма BD равна 40. Найдите площадь параллелограмма.

Дополнительная часть

При выполнении задания 9 запишите ход, обоснование решения и полученный ответ.

9. (3 балла) Рыболов проплыл на лодке от пристани некоторое расстояние вверх по течению реки, затем бросил якорь, 2 часа ловил рыбу и вернулся обратно через 5

часов от начала путешествия. На какое расстояние от пристани он отплыл, если скорость течения реки равна 2 км/ч, а собственная скорость лодки 6 км/ч?

Эталоны ответов:

Номер задания	1	2	3	4	5	6	7	8	9
Ответ	Б	Б	В	А	2,7	2	12	816	8

3. Фонд оценочных средств для текущего контроля

Текущий контроль проводится во время аудиторных занятий по математике в соответствии с учебным планом и рабочей программы ОД «Математика» по всем разделам программы. Текущий контроль состоит из двух частей: теоретической и практической. При этом обучающиеся получают две отметки.

Теоретическая часть проходит в форме устных ответов: обучающиеся вытягивают пять карточек с вопросами, дают полный ответ (со списком вопросов обучающиеся знакомятся в начале изучения раздела).

Шкала перевода баллов в отметки по пятибалльной системе

<i>Отметка</i>	<i>Количество верных ответов на теоретические вопросы</i>
<i>«3» (удов.)</i>	<i>3</i>
<i>«4» (хорошо)</i>	<i>4</i>
<i>«5» (отлично)</i>	<i>5</i>

Задания практической части (контрольные работы) частично взяты из открытого банка ЕГЭ и ВПР по математике.

На выполнение контрольной работы по математике дается 1 академический час (45 минут).

Контрольная работа состоит из 2-х частей. В первой части предлагается выполнить 4 задания - выбрать правильный ответ из четырех предложенных. Во второй части предлагается выполнить 6 заданий - оформить ход решения и записать полученный ответ.

За правильное выполнение любого задания первой части обучающийся получает один балл. Правильное выполнение заданий второй части оценивается 2 баллами или 1 баллом за частичное решение.

Баллы, полученные за все выполненные задания, суммируются.

Шкала перевода баллов в отметки по пятибалльной системе

<i>Отметка</i>	<i>Число баллов, необходимое для получения отметки</i>
<i>«3» (удов.)</i>	<i>8-10</i>
<i>«4» (хорошо)</i>	<i>11-13</i>
<i>«5» (отлично)</i>	<i>14-16</i>

3.1 Прямые и плоскости, координаты и векторы в пространстве

Образовательные результаты, подлежащие проверке (элементы):

ДР6 1, ДР6 9, ДР6 11, ДР6 12, ДР6 13, ДР6 14.

ОК 1, ОК 3, ОК 5, ОК 7.

ПК 1.2.

Теоретические вопросы:

1. Сформулируйте теорему Пифагора.
2. Перечислите основные фигуры в пространстве.
3. Перечислите способы задания плоскости.
4. Продолжите теорему: «Если одна из двух параллельных прямых перпендикулярна плоскости, то...».
5. Продолжите теорему: «Если две параллельные плоскости пересекаются третьей, то...».
6. Сформулируйте определение двуграного угла.
7. Раскройте понятие «угол между прямыми».
8. Перечислите взаимное расположение двух прямых в пространстве
9. Какие прямые называются параллельными в пространстве?
10. Какие прямые называются скрещивающимися в пространстве?
11. Какие прямые называются перпендикулярными в пространстве?
12. Перечислите взаимное расположение прямой и плоскости в пространстве.
13. Раскройте понятие «угол между прямой и плоскостью».
14. Раскройте понятие «параллельность прямой и плоскости».
15. Раскройте понятие «перпендикулярность прямой и плоскости».
16. Перечислите взаимное расположение двух плоскостей в пространстве.
17. Раскройте понятие «угол между плоскостями».
18. Раскройте понятие «параллельность плоскостей».
19. Раскройте понятие «перпендикулярность плоскостей».
20. Как найти расстояние от точки до прямой?
21. Как найти расстояние между прямыми?
22. Как найти расстояние между плоскостями?
23. Продолжите определение: «Перпендикуляр – это...».
24. Продолжите определение: «Наклонная – это...».
25. Продолжите определение: «Проекция наклонной – это...».
26. Перечислите свойства параллельного проектирования.
27. Из чего состоит прямоугольная система координат в пространстве?
28. Если точка лежит в плоскости xy , какая координата у нее нулевая?
29. Приведите пример координат точки A , которая лежит на оси z .
30. Раскройте понятие «вектор».
31. Какие векторы называются коллинеарными?
32. Какие векторы называются перпендикулярными?

Контрольная работа

Первая часть

При решении заданий 1-4 запишите правильный ответ из четырех предложенных.

- (1 балл) Расшифруйте краткую запись: $a \in \beta\beta$.
А) точка a принадлежит плоскости $\beta\beta$; Б) точка a принадлежит прямой $\beta\beta$; В) прямая принадлежит плоскости $\beta\beta$; Г) прямая a пересекает плоскость $\beta\beta$.
- (1 балл) Прямые АВ и СД скрещиваются. Какое расположение имеют прямые АС и ВД?
А) параллельные; Б) перпендикулярные; В) скрещиваются; Г) пересекаются.
- (1 балл) Какие из векторов $a(1,2,-3)$, $c(3,6,-6)$, $v(2,4,-6)$ коллинеарны? А) a, v ; Б) c, v ; В) a, c ; Г) коллинеарных векторов нет.
- (1 балл) Даны точки $A(2,0,5)$, $B(2,4,-2)$, $C(-2,6,3)$. Серединой какого отрезка является точка $M(0,3,4)$?
А) АВ; Б) ВС; В) АС; Г) СВ.

Вторая часть

При выполнении заданий 5-10 запишите ход решения и полученный ответ.

- (2 балла) Через концы отрезка АВ и его середину М проведены параллельные прямые, пересекающие некоторую плоскость в точках А₁, В₁ и М₁. Найдите длину отрезка ММ₁, если отрезок АВ не пересекает плоскость и если АА₁=6,8 см, ВВ₁=7,4 см.
- (2 балла) Прямые АС, АВ и АД попарно перпендикулярны. Найдите отрезок СД, если АВ=5 см, ВС=13 см, АД=9 см.
- (2 балла) Даны векторы $a(-6,0,8)$, $v(-3,2,-6)$. Найдите скалярное произведение векторов.
- (2 балла) Начертить куб АВСДА₁В₁С₁Д₁. Построить точку К ∈ АВ, точку М ∈ ДД₁С, отрезок РЕ ∈ А₁В₁С₁.
- (2 балла) При каких значениях n векторы $\vec{n}(4,n,2)$, $\vec{n}(1,2,n)$ перпендикулярны?
- (2 балла) Оформите лист бумаги А4 вертикальными, горизонтальными, наклонными линиями, используя разные цветовые оттенки.

Эталоны ответов:

Номер задания	1	2	3	4	5	6	7	8	9	10
Ответ	В	В	А	В	7,1	15	-30	-	-1	-

3.2 Основы тригонометрии. Тригонометрические функции

Образовательные результаты, подлежащие проверке (элементы):

ДР6 1, ДР6 3, ДР6 5, ДР6 14.

ОК 1, ОК 2, ОК 3.

Теоретические вопросы:

1. Чему равен угол в один радиан?
2. В каких четвертях тригонометрического круга функция $y=\sin x$ принимает положительные значения?
3. В каких четвертях тригонометрического круга функция $y=\cos x$ принимает отрицательные значения?
4. Продолжите определение: «Синус острого угла – это...».
5. Продолжите определение: «Косинус острого угла – это...».
6. Продолжите определение: «Тангенс острого угла – это...».
7. Сформулируйте основное тригонометрическое тождество.
8. Чему равно произведение $\operatorname{tg}x \cdot \operatorname{ctg}x$?
9. Чему равен $\sin(2x)$? Сформулируйте правило вычисления.
10. Чему равен $\cos(2x)$? Сформулируйте правило вычисления.
11. Перечислите тригонометрические функции, укажите их периоды.
12. Чему равен период функции $y=\cos(4x)$?
13. Чему равен период функции $y=\cos(x/4)$?
14. Определите область значения функции $y=3\cos(5x)$?
15. Перечислите способы решения тригонометрических уравнений.
16. Раскройте алгоритм решения однородных тригонометрических уравнений первого порядка.
17. Раскройте алгоритм решения однородных тригонометрических уравнений второго порядка.

Контрольная работа Первая

часть

При решении заданий 1-4 запишите правильный ответ из четырех предложенных.

1. (1 балл) В \triangle

$\triangle ABC$?

$ABC \cos C = \frac{AB}{AC}$. Какая из сторон является гипотенузой

А) АВ; Б) АС; В) ВС; Г) СВ.

2. (1 балл) Углом какой четверти является угол $\alpha=410^\circ$? А) I; Б) II; В) III; Г) IV.

3. (1 балл) Какие из функций являются чётными? А) $y=\sin x$;
Б) $y=\cos x$; В) $y=\operatorname{tg} x$; Г) $y=\operatorname{ctg} x$.

4. (1 балл) Период функции $y=\sin x$? А) $\pi/2$;
Б) 2π ; В) 4π ; Г) π .

Вторая часть

При выполнении заданий 5-10 запишите ход решения и полученный ответ.

5. (2 балла) Вычислите: $\sin \frac{\pi}{2} + \cos \frac{\pi}{2}$.

6. (2 балла) Найдите значение выражения $4\arccos \frac{\sqrt{2}}{2} - 4\arcsin(-\frac{\sqrt{2}}{2})$.

7. (2 балла) Найдите значение выражения $7 \operatorname{tg} 13^\circ \cdot \operatorname{tg} 77^\circ$.

8. (2 балла) Решите уравнение $\cos x = \frac{1}{2}$. Запишите наименьший положительный

корень уравнения.

9. Решите уравнение $\sin^2 x - 4 \sin x + 3 = 0$.

10. Постройте график тригонометрической функции $y = 2 \sin x$ Эталоны

ответов:

Номер задания	1	2	3	4	5	6	7	8	9	10
Ответ	Б	А	В	Б	1	2π	7	π/3	π/2+2πn, n ∈ Z	

3.3 Производная и первообразная функции

Образовательные результаты, подлежащие проверке (элементы):

ДРБ 1, ДРБ 4, ДРБ 6, ДРБ 14.

ОК 1, ОК 3, ОК 6.

ПК 1.4.

Теоретические вопросы:

1. Продолжите определение: «Производная – это...».
2. Раскройте геометрический смысл производной.
3. Раскройте физический смысл производной.
4. Перечислите правила вычисления производных.
5. Чему равна производная степенной функции?
6. Чему равна производная произведения?
7. Чему равна производная частного?
8. Чему равна производная сложной функции?
9. Сформулируйте признак возрастания функции.
10. Сформулируйте признак убывания функции.
11. Сформулируйте признак точки максимума функции.
12. Сформулируйте признак точки минимума функции.
13. Составьте алгоритм решения задач на нахождения наибольшего и наименьшего значения функции на отрезке?
14. Составьте алгоритм исследования и построения графика функции спомощью производной.
15. Продолжите определение: «Функция $F(x)$ называется ...».
16. Раскройте геометрический смысл определенного интеграла.
17. Продолжите определение: «Криволинейная трапеция – это...».
18. Сформулируйте формулу Ньютона-Лейбница.
19. В чем заключается общий вид всех первообразных?
20. Перечислите правила вычисления интегралов.

Контрольная работа Первая часть

При решении заданий 1-4 запишите правильный ответ из четырех предложенных.

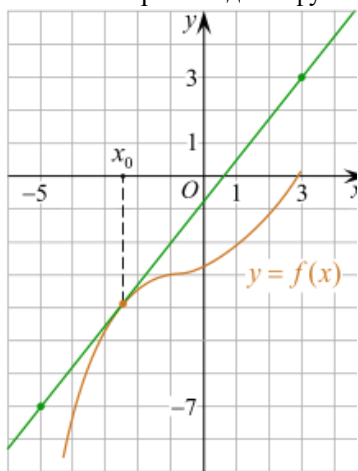
1. (1 балл) Чему равна производная функции $y=2x^3$? А) $y' = 5x$; Б) $y' = 6x$; В) $y' = 6$; Г) $y' = 6x^2$.
2. (1 балл) По какой из формул вычисляется производная частного? А) $(u+v)' = u' + v'$; Б) $(uv)' = u'v + uv'$; В) $\left(\frac{u}{v}\right)' = \frac{u'v - uv'}{v^2}$; Г) $(f(g(x)))' = f'(g(x)) * g'(x)$.
3. (1 балл) Решите уравнение $f'(x)=0$, если $f(x)=3x^2 - 6x + 4$. Выберите ответ. А) 1; Б) -1; В) 4; Г) -4.
4. (1 балл) Общий вид всех первообразных для $f(x)=\sin x$? А) $F(x)=\cos x + C$; Б) $F(x)=-\cos x + C$; В) $F(x)=\operatorname{tg} x + C$; Г) $F(x)=-\operatorname{tg} x + C$.

Вторая часть

При выполнении заданий 5-10 запишите ход решения и полученный ответ.

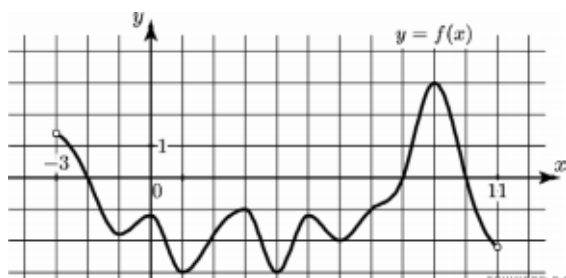
5. (2 балла) Материальная точка движется прямолинейно по закону $x(t) = \frac{1}{4}t^2 + t - 10$ (где x — расстояние от точки отсчета в метрах, t — время в секундах, измеренное с начала движения). В какой момент времени (в секундах) ее скорость была равна 5 м/с?

6. (2 балла) На рисунке изображён график функции $y = f(x)$ и касательная к нему в точке с абсциссой x_0 . Найдите значение производной функции $f(x)$ в точке x_0 .

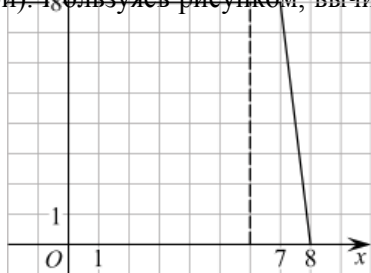


7. (2 балла) Решите неравенство: $x^2 - 16 < 0$

8. (2 балла) На рисунке изображен график функции $y = f(x)$, определённой на интервале $(-3; 11)$. Найдите наименьшее значение функции $f(x)$ на отрезке $[2; 9,5]$.



9. (2 балла) На рисунке изображён график некоторой функции $y = f(x)$ (два луча общей начальной точкой). Пользуясь рисунком, вычислите $F(8) - F(6)$, где $F(x)$ — одна из первообразных функции $f(x)$.



10. (2 балла) Фирме «Дизайн+» выделяют участок земли площадью 100 м^2 . Предлагают четыре участка разных размеров: 25×4 ; 20×5 ; $12,5 \times 8$; 10×10 . Какой участок одобрит директор фирмы «Дизайн+», учитывая, что необходимо будет поставить забор по периметру?

Эталоны ответов:

Номер задания	1	2	3	4	5	6	7	8	9	10
Ответ	Г	В	А	Б	8	1,25	(-4; 4)	-3	12	10x10

3.4 Многогранники и тела вращения

Образовательные результаты, подлежащие проверке (элементы):

ДР6 1, ДР6 6, ДР6 9, ДР6 10, ДР6 11, ДР6 12, ДР6 14.

ОК 1, ОК 3, ОК 05, ОК 06, ОК 7.

ПК 1.1, ПК 1.2.

Теоретические вопросы:

1. Продолжите определение: «Многогранник – это...».
2. Продолжите определение: «Призма – это...».
3. Продолжите определение: «Прямоугольный параллелепипед – это...».
4. Продолжите определение: «Куб – это...».
5. Продолжите определение: «Пирамида – это...».
6. Сформулируйте свойство о противоположащих гранях параллелепипеда.
7. Сформулируйте свойство о диагоналях параллелепипеда.
8. Сформулируйте свойство о диагонали и линейных размерахпрямоугольного параллелепипеда.
9. Какая призма называется прямой?
10. Какая призма называется правильной?
11. Раскройте понятие «правильная пирамида».
12. Что такое апофема правильной пирамиды?
13. В чем отличие полной поверхности призмы от полной поверхностипирамиды?
14. Сформулируйте теорему о вычислении боковой поверхности прямойпризмы.
15. Сформулируйте теорему о вычислении боковой поверхности правильнойпирамиды.
16. Назовите предметы из вашей профессиональной деятельности, которыеимеют формы многогранников.
17. Продолжите определение: «Цилиндр – это...».
18. Продолжите определение: «Конус – это...».
19. Продолжите определение: «Усеченный конус – это...».
20. Продолжите определение: «Шар – это...».
21. Что является высотой усеченного конуса?
22. Что является осевым сечением цилиндра, конуса, усеченного конуса, шара?
23. Перечислите единицы измерения площади, объема.
24. Чему равно отношение площадей поверхностей подобных фигур в пространстве?
25. Чему равно отношение объемов подобных фигур в пространстве?
26. Назовите предметы из вашей профессиональной деятельности, которыеимеют формы тел вращения.

Контрольная работаПервая часть

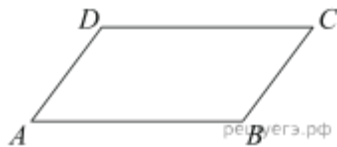
При решении заданий 1-4 запишите правильный ответ из четырех предложенных.

1. (1 балл) В каких единицах измеряется объем многогранника?
А) в метрах; Б) в кубических метрах; В) в квадратных метрах; Г) в двугранных градусах.
2. (1 балл) Площадь полной поверхности призмы вычисляется по формуле: А) $S = S_{\text{бок}} + 2SO_{\text{СН}}$; Б) $S_{\text{бок}} = P_{\text{осн}} * H$; В) $S = S_{\text{бок}} + S_{\text{СОСН}}$; Г) $S_{\text{бок}} = 2P_{\text{осн}} * H$.
3. (1 балл) Что является осевым сечением конуса?
А) равнобедренный треугольник; Б) равнобедренная трапеция; В) прямоугольник; Г) прямоугольная трапеция.
4. (1 балл) Какая фигура получается при вращении прямоугольного треугольника вокруг одного из своих катетов?
А) конус; Б) усеченный конус; В) пирамида; Г) усеченная пирамида.

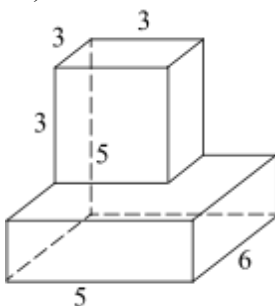
Вторая часть

При выполнении заданий 5-10 запишите ход решения и полученный ответ.

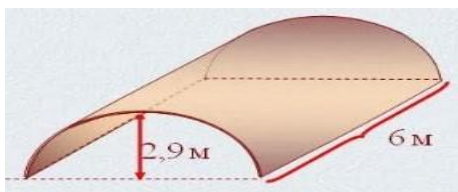
5. (2 балла) Ребро основания правильной треугольной пирамиды 3 м, апофема 6 м. Найдите площадь боковой поверхности пирамиды.
6. (2 балла) Две стороны параллелограмма относятся как 3:17, а периметр его равен 40. Найдите большую сторону параллелограмма.



7. (2 балла) Прямоугольник со сторонами 8 см и 3 см вращается вокруг большей стороны. Найдите объем, площади боковой и полной поверхностей полученного тела.
8. (2 балла) Найдите объем многогранника, изображенного на рисунке (все двугранные углы прямые).



9. (2 балла) Клиенту необходимо, чтобы в комнате обязательно присутствовали объемные элементы декора цилиндрической формы. Построить из бумаги модель цилиндра. Размеры для построения выбрать самостоятельно, с учетом того, что соотношение радиуса к высоте должно быть 1:2.
10. (2 балла) Рассчитать количество 2-х килограммовых банок краски нужно купить для окрашивания цилиндрического свода подвала. Расход краски 100 г на 1 м^2 . Считать $\pi=3$.



Эталоны ответов:

Номер задания	1	2	3	4	5	6	7	8	9	10
Ответ	Б	А	А	А	27	17	72π ; 48π ; 64π	87	-	3

3.5 Степенная, показательная и логарифмическая функции

Образовательные результаты, подлежащие проверке (элементы):

ДРб 1, ДРб 2, ДРб 3, ДРб 4, ДРб 6, ДРб 14.

ОК 1, ОК 2, ОК 3, ОК 6.

Теоретические вопросы:

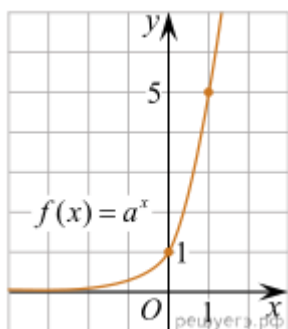
1. Сформулируйте определение степенной функции.
2. Перечислите свойства степенной функции
3. Сформулируйте определение показательной функции.
4. Перечислите свойства показательной функции
5. Сформулируйте определение логарифмической функции.
6. Перечислите свойства логарифмической функции.
7. Продолжите определение: «Логарифм – это...».
8. Чему равен логарифм произведения?
9. Чему равен логарифм частного?
10. Приведите примеры логарифмической спирали в природе и в окружающем мире.
11. На что необходимо обратить внимание при решении иррационального уравнения четной степени?
12. Чему равен корень четной степени из отрицательного числа? Приведите пример.
13. Чему равен корень нечетной степени из отрицательного числа? Приведите пример.
14. На что стоит обратить внимание при решении логарифмических и иррациональных, дробно-рациональных уравнений и неравенств?
15. В чем заключается графический способ решения уравнений.

Контрольная работа

Первая часть

При решении заданий 1-4 запишите правильный ответ из четырех предложенных.

1. (1 балл) Между какими двумя натуральными числами находится число $\sqrt[3]{19}$? А) 19 и 20; Б) 2 и 3; В) 18 и 19; Г) 3 и 4.
2. (1 балл) На рисунке изображён график функции вида $f(x)=a^x$. Найдите значение $f(2)$.



А) 25.; Б) 5; В) 32; Г) нет верного ответа.

3. (1 балл)) Какая из функций возрастают на всей области определения?

А) $f(x)=\log_5 x$; Б) $f(x)=0,7^x$; В) $f(x)=x$; Г) $f(x)=\log_1 x$.

4. (1 балл) Укажите область определения функции $f(x) = \lg \frac{2^{2x-3}}{x+7}$

А) $(-7; 1,5)$; Б) $(-\infty; -1,5), (7; +\infty)$; В) $(-1,5; 7)$; Г) $(-\infty; -7), (1,5; +\infty)$.

Вторая часть

При выполнении заданий 5-10 запишите ход решения и полученный ответ.

5. (2 балла) Найдите значение выражения $4^8 \cdot 11^{10} : 44^8$.

6. (2 балла) Сколько целых решений имеет неравенство $1 < 7^{x-1} \leq 49$?

7. (2 балла) Найдите корень уравнения $\log_5(4+x) = 2$.

8. (2 балла) Расстояние от наблюдателя, находящегося на небольшой высоте h километров над землёй, до наблюдаемой им линии горизонта вычисляется по

формуле $l = \sqrt{2Rh}$, где $R=6400$ км — радиус Земли. С какой высоты горизонт виден на расстоянии 48 километров? Ответ выразите в километрах.

9. (2 балла) В ходе распада радиоактивного изотопа его масса уменьшается по закону $m(t) = m_0 \cdot 2^{-t/T}$, где m_0 — начальная масса изотопа, t — время, прошедшее от начального момента, T — период полураспада. В начальный момент времени масса изотопа 184 мг. Период его полураспада составляет 7 мин. Найдите, через сколько минут масса изотопа будет равна 23 мг.

10. (2 балла) Найдите значение выражения $\log_6 108 + \log_6 2$

Эталоны ответов:

Номер задания	1	2	3	4	5	6	7	8	9	10
Ответ	Б	А	А	Г	121	2	21	0,18	21	3

3.6 Элементы теории вероятностей и математической статистики

Образовательные результаты, подлежащие проверке (элементы):

ДРб 7, ДРб 8, ДРб 14.

ОК 1, ОК 3, ОК 4, ОК 5.

ПК 1.4.

Теоретические вопросы:

- Продолжите определение: «Случайное событие – это...». Приведите пример.
- Приведите пример достоверного события.
- Приведите пример невозможного события.
- Продолжите определение: «Вероятность случайного события – это...».
- Сформулируйте правило нахождения сложения вероятностей.
- Сформулируйте правило умножения вероятностей.
- Как найти среднее арифметическое числового ряда?
- Как найти медиану числового ряда?
- Как вычисляется размах числового ряда?
- Для чего нужны диаграммы, графики? Перечислите виды диаграмм.
- Приведите примеры проявления закона больших чисел в природных явлениях.

12. Приведите примеры проявления закона больших чисел в общественных явлениях.
13. Что изучает статистика?
14. Продолжите определение: «Сочетание – это...».
15. Продолжите определение: «Размещение – это...».
16. Продолжите определение: «Перестановки – это...».

Контрольная работа Первая
часть

При решении заданий 1-4 запишите правильный ответ из четырех предложенных

1. (1 балл) Каких событий не бывает в теории вероятностей? А) случайные; Б) неслучайные; В) достоверные; Г) невозможные.
2. (1 балл) Событие, которое при выполнении определенной совокупности условий, обязательно произойдет - это:
А) случайное; Б) неслучайное; В) достоверное; Г) невозможное.
3. (1 балл) Вероятность случайного события есть неотрицательное число, заключенное между числами:
А) 0 и 1; Б) 0 и 100; В) -1 и 1; Г) -100 и 100.
4. (1 балл) Группировка – это...
А) упорядочение единиц совокупности по признаку; Б) разбиение единиц совокупности на группы по признаку; В) обобщение единичных фактов; Г) обобщение единичных признаков.

Вторая часть

При выполнении заданий 5-10 запишите ход решения и полученный ответ.

5. (2 балла) В офисе дизайнерского агентства находятся 8 посетителей женского пола и 2 мужского. Определить вероятность того, что первым к консультанту обратится мужчина.
6. (2 балла) На конференцию приехали 2 ученых из Германии, 3 из Сербии и 7 из Швейцарии. Каждый из них делает на конференции один доклад. Порядок докладов определяется жеребьевкой. Найдите вероятность того, что пятым окажется доклад ученого из Сербии.
7. (2 балла) Маша, Тимур, Диана, Костя и Антон бросили жребий — кому достанется проект по оформлению свадебного зала. Найдите вероятность того, что проект точно не будет выполнять Антон.
8. (2 балла) В ящике три красных и три синих фломастера. Фломастеры вытаскивают по очереди в случайном порядке. Какова вероятность того, что первый раз синий фломастер появится третьим по счету?
9. (2 балла) Дан ряд чисел: 175; 172; 179; 171; 174; 170; 172; 169. Найдите моду ряда и среднее арифметическое ряда.
10. (2 балла) При анализе ценовых предпочтений клиентов дизайнерского агентства получены данные, представленные в таблице: доля клиентов, приобретающих дизайнерские услуги одинакового назначения, но различной цены. Найти моду случайной величины. X – цены продаваемых услуг.

x_i	3500	4500	5500	6500	7500	8500
p_i	1/20	3/20	3/20	8/20	4/20	1/20

Эталоны ответов:

Номер задания	1	2	3	4	5	6	7	8	9	10
Ответ	Б	В	А	А	0,2	0,25	0,8	0,15	172; 172,75	6500

4. Фонд оценочных средств для рубежного контроля (по итогам 3.1 – 3.3)

Образовательные результаты, подлежащие проверке (элементы):

ДРБ 1, ДРБ 3, ДРБ 4, ДРБ 5, ДРБ 6, ДРБ 9, ДРБ 11, ДРБ 12, ДРБ 13, ДРБ 14.

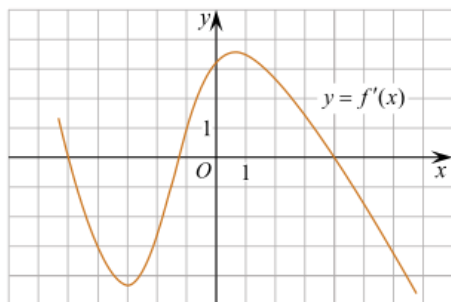
ОК 1, ОК 2, ОК 3, ОК 5, ОК 6.

ПК 1.2, ПК 1.4.

Первая часть

При решении заданий 1-4 запишите правильный ответ из четырех предложенных.

- Даны точки $A(2,0,5)$, $B(-2,6,3)$. Какие координаты имеет середина отрезка AB – точка M ?
А) $M(0, 3, 4)$; Б) $M(2, 3, 4)$; В) $M(0, -3, 4)$; Г) $M(0, 3, -4)$.
- (1 балл) Прямые AB и CD параллельные. Какое расположение имеют прямые AC и BD ?
А) параллельные; Б) перпендикулярные; В) скрещиваются; Г) пересекаются.
- (1 балл) Какие из функций являются чётными? А) $y = \sin x$;
Б) $y = \cos x$; В) $y = \operatorname{tg} x$; Г) $y = \operatorname{ctg} x$.
- (1 балл) На рисунке изображен график производной функции $y=f(x)$. При каком значении x функция принимает свое наибольшее значение на отрезке $[-4; -2]$?



- А) 0,5; Б) -4; В) -5; Г) 1.

Вторая часть

При выполнении заданий 5-10 запишите ход решения и полученный ответ.

5. (2 балла) Через концы отрезка AB и его середину M проведены параллельные прямые, пересекающие некоторую плоскость в точках A_1 , B_1 и M_1 . Найдите длину отрезка MM_1 , если отрезок AB не пересекает плоскость и если $AA_1=6$ см, $BB_1=4$ см.

6. (2 балла) Даны точки $A(6,7,8)$, $B(8,2,6)$. Найдите длину вектора AB .

7. (2 балла) Найдите $\operatorname{tg}\left(\alpha + \frac{\pi}{2}\right)$, если $\operatorname{tg} \alpha = 0,5$.

8. (2 балла) Материальная точка движется прямолинейно по закону $x(t)=t^2-13t+23$ (где x — расстояние от точки отсчета в метрах, t — время в секундах, измеренное сначала движения). В какой момент времени (в секундах) ее скорость была равна 3 м/с?

9. (2 балла) Дана функция $f(x)=3x^2+1$. Чему равна $F(1)$?

10. (2 балла) Решите уравнение $\cos x=1$. В ответ запишите наименьший неотрицательный корень.

Эталоны ответов:

Номер задания	1	2	3	4	5	6	7	8	9	10
Ответ	А	Г	Б	Б	5	$\sqrt{33}$	-2	8	2	0

5. Фонд оценочных средств для промежуточной аттестации (экзамен)

На выполнение письменной экзаменационной работы по математике дается 4 астрономических часа (240 минут).

Экзаменационная работа состоит из 2-х частей: обязательной и дополнительной. Обязательная часть содержит задания минимального обязательного уровня, дополнительная часть – более сложные задания.

При выполнении заданий обязательной части требуется представить ход решения и указать полученный ответ. За правильное выполнение любого задания из обязательной части обучающийся получает один балл. При выполнении задания из дополнительной части необходимо подробно описать ход решения и дать ответ. Правильное выполнение заданий дополнительной части оценивается 3 баллами или 1-2 баллами за частичное решение.

Баллы, полученные за все выполненные задания, суммируются.

Шкала перевода баллов в отметки по пятибалльной системе

Отметка	Число баллов, необходимое для получения отметки
«3» (удов.)	6-9
«4» (хорошо)	10-14 (не менее одного задания из дополнительной части)
«5» (отлично)	более 14 (не менее двух заданий из дополнительной части)

Образовательные результаты, подлежащие проверке (элементы):

ДРб 1, ДРб 2, ДРб 3, ДРб 4, ДРб 5, ДРб 6, ДРб 7, ДРб 8, ДРб 9, ДРб 10, ДРб 11, ДРб 12, ДРб 13, ДРб 14.

ОК 1, ОК 2, ОК 3, ОК 4, ОК 5, ОК 6, ОК 7.

ПК 1.2, ПК 1.4.

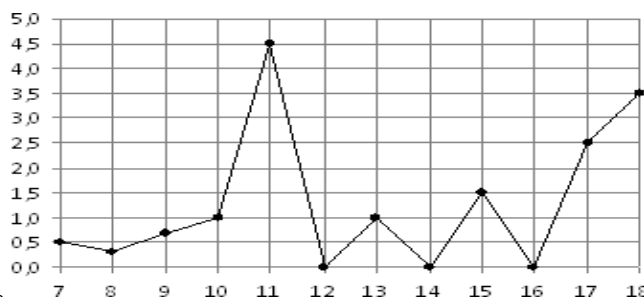
Экзаменационные задания по математике

Обязательная часть

При выполнении заданий 1-12 запишите ход решения и полученный ответ.

1. (1 балл) Вычислите: $2\sin(\pi/6) + 2\cos(\pi/3)$

2. (1 балл) На рисунке жирными точками показано суточное количество осадков, выпадавших в Элисте с 7 по 18 декабря 2001 года. По горизонтали указываются числа месяца, по вертикали — количество осадков, выпавших в соответствующий день, в миллиметрах. Для наглядности жирные точки на рисунке соединены линией. Определите по рисунку, сколько дней выпадало более 2 миллиметров осадков?



3. (1 балл) Стоимость услуг частного дизайнера возросла на 10%. Определить, сколько стоили услуги дизайнера до подорожания, если после клиент заплатил 55000руб?

4. (1 балл) На тарелке 16 пирожков: 7 с рыбой, 5 с вареньем и 4 с вишней. Юля наугад выбирает один пирожок. Найдите вероятность того, что он окажется с вишней.

5. (1 балл) Найдите значение выражения $\log_2 2 + \log_2 32$

$$\sqrt{7-6x} = 7.$$

6. (1 балл) Найдите корень уравнения

7. (1 балл) Решите неравенство $2^{x+5} > 64$. В ответ запишите наименьшее положительное число.

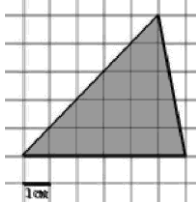
$$\frac{x+2}{3x-2} = \frac{1}{4}$$

8. (1 балл) Найдите корень уравнения

9. (1 балл) Найдите производную функции в точке $x=0$: $y = x^5 - 6x^2 - 7x + 1$

10. (1 балл) Кастрюля, оформленная по индивидуальному заказу, имеет форму цилиндра. Высота кастрюли 35 см, диаметр основания 20 см. Рассчитайте вместимость данной посуды, деленную на

11. (1 балл) Найдите площадь фигуры, изображенной на рисунке



12. (1 балл) Тело движется по закону $S(t) = 3t^2 + 5t$ (м) Найдите скорость тела через 1с после начала движения.

Дополнительная часть

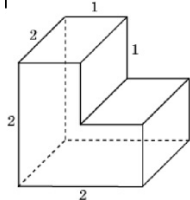
При выполнении заданий 13-16 запишите ход решения и полученный ответ

13. (3 балла) Вычислите площадь участка стола, отведенного для презентации работ дизайнера

Василия, периметр которого ограничивают линии $y = x^2 - 2x - 2$ и $y = -x^2 + 2$. Выполните чертеж. Ответ дайте в квадратных метрах.

14. (3 балла) Решите уравнение $\sin^2 x - 2\sin x = 0$. В ответ запишите количество решений, принадлежащих промежутку $[0; 4]$ π .

15. (3 балла) Найдите объем многогранника, изображенного на рисунке (все двугранные углы прямые).



16. (3 балла) Заказ на 126 открыток первый дизайнер выполняет на 5 часов быстрее, чем второй. Сколько открыток за час изготавливает первый дизайнер, если известно, что он за час может приготовить на 5 открыток больше второго?

Эталоны ответов:

Номер задания	1	2	3	4	5	6	7	8	9	10	11	12	13	14	15	16
Ответ	2	3	50 тыс	0,25	6	-7	1	-10	7	3500	15	11	9	5	6	13